



TYT

TEMEL YETERLİLİK TESTİ

TARİH-COĞRAFYA DİN KÜLTÜRÜ VE FELSEFE

KAMP ATEŞİ

Mehmet Celal ÖZYILDIZ
Önay ÇEPE
Sümevra BAYIR
Erdal AYDEMİR

ÖSYM Formatında
Yeni Nesil Sorular
Tamamı Video Çözümlü
TYT Kamp Kitabı



DOĞA

RETRO
Yayıncılık



Ücretsiz Videolara
ulaşmak için
QR kodu tara!



1. İslamiyet öncesi Arap Yarımadası'ndaki kabileler genellikle göçebe yaşam sürerdi. Kendilerini yerleşik kabilelerden üstün gören bedevi denilen göçebeler çadırdaki yaşar ve hayvancılık ile uğraşırlardı. Medeni veya hadari denilen yerleşik Araplar ise köy, kasaba ve şehirlerde yaşar, geçimlerini tarım ve ticaret ile sağlardı.

Bu bilgilere göre İslamiyet öncesi Arapların yaşantısı hakkında aşağıdakilerden hangisine ulaşılamaz?

- A) Yaşam tarzının geçim alanlarını etkilediğine
B) Siyasi birliğin bulunmadığına
C) Kabilecilik anlayışının etkili olduğuna
D) Şehirlerde ticaretin önemli geçim kaynağı olduğuna
E) Yerleşik hayat tarzının bulunmadığına

2. Tarih dersinde Mehmet Öğretmen, öğrencilerine başlangıçta Arap Yarımadası'nda İslâmiyet'in yayılmasının tepkiyle karşılanmasının nedenini sormuştur.

Buna göre öğrencilerin verdiği aşağıdaki cevaplardan hangisi doğru kabul edilebilir?

- A) Arap kabilelerinin üstünlüklerini kaybetme endişesi etmeleri
B) Kabe'nin kutsallığının kaybolacağını düşünmeleri
C) İslamiyet'in Arap Yarımadası'nda siyasi birliği sağlayacağıının düşünülmesi
D) İslamiyet'in göçebe yaşam tarzına karşı olması
E) Arapların savaşçı bir toplum olmamaları

3. İslam dininin ortaya çıktığı dönemde Arap Yarımadası'nda bilimsel faaliyetlerin bulunmadığı ancak Hindistan, Bizans ve Sasaniler'de bilimin gelişmiş olduğuna bakılarak;

- I. Arapların bilimsel alanda geride olduğu,
II. bilimin İslamiyet ile birlikte ortaya çıktığı,
III. Arapların Cahiliye Dönemi'nde bilime önem vermediği

Yargılarından hangilerine ulaşılabilir?

- A) Yalnız I
B) Yalnız II
C) I ve II
D) I ve III
E) I, II ve III

4. Hz. Muhammed'in Mekke'den Medine'ye hicreti ile birlikte aşağıdaki gelişmelerden hangisinin ortaya çıktığı söylenemez?

- A) Müslümanların siyasi bir güç hâline gelmesinin
B) İslamiyet'in yeni yayılma alanı bulmasının
C) Müşriklerin Müslümanların varlığını resmen tanımalarının
D) Medine'nin Müslümanlığın merkezi hâline dönüşmesinin
E) Müslümanların müşriklere savaş ilan etmesinin

5. Aşağıdakilerden hangisi Abbasiler'de merkezî otoritenin zayıflamasına ve zamanla devletin yıkılmasına ortam hazırlamıştır?

- A) Tevaif-i Mülük devletlerinin kurulması
B) Bilimsel gelişmelerin yavaşlaması
C) Halifeliliğin saltanata dönüşmesi
D) Türklerin Avasım adlı şehirlere yerleştirilmesi
E) Arapçanın etkinliğinin artması

6. Hicret'ten sonra Hz. Muhammed'in Medine'de hazırlattığı Medine Sözleşmesi'ne bakılarak;

- I. ilk İslam anayasasının oluştuğu,
II. şehri ortak savunma ittifakının kurulduğu,
III. Hz. Peygamberin siyasi bir lider hâline geldiği

Yargılarından hangilerine ulaşılabilir?

- A) Yalnız I
B) Yalnız II
C) I ve II
D) I ve III
E) I, II ve III



1. 1516'da Kutsal Roma-Germen İmparatorluğu tahtına Şarlken'in geçmesiyle Avrupa'da Habsburg Hanedanı hüküm sürmeye başlamış ve Avusturya'da bu hanedana bağlı olarak Türkler ile mücadele eden bir arşidüklük olarak ortaya çıkmıştır.

Osmanlı Devleti ile Habsburg Hanedanlığının karşı karşıya gelmesinde aşağıdakilerden hangisinin etkili olduğu söylenebilir?

- A) Osmanlı Devleti'nin Macar Krallığı'na son vermesi
B) Habsburg Hanedanlığının İngiltere ve Fransa ile olan mücadelesi
C) Osmanlı Devleti'nin doğudaki kayıplarını batıda telafi etme düşüncesi
D) Osmanlı Devleti'nin Akdenizi bir Türk gölü hâline getirmek istemesi
E) Osmanlı Devleti'nin Avusturya'yı Habsburg Hanedanından ayırma düşüncesi

2. **Osmanlı Devleti'nin Habsburglar ile mücadelelere başlamasında;**

- I. Habsburglar'ın İngiltere ve Fransa ile rekabet durumunda olması,
II. Protestanlık mezhebinin yayılması,
III. Habsburglar'ın Osmanlı Devleti'nin batıdaki ilerleyişini engellenmesi

durumlarından hangilerinin etkili olduğu söylenebilir?

- A) Yalnız I
B) Yalnız II
C) I ve II
D) I ve III
E) I, II ve III

3. Kanuni Dönemi'nde Osmanlı Devleti, doğu ve batı yönünde genişleme siyaseti izlemiş ve topraklarını genişletmiştir. Ancak Kanuni'den sonraki padişahlar döneminde bu fetih siyaseti yavaşlamaya başlamıştır.

Bu bilgilere göre Osmanlı Devleti'nin fetihlerinin yavaşlamasında aşağıdakilerden hangisinin etkili olduğu savunulamaz?

- A) Orta Avrupa'da Habsburg Hanedanı'nın gücü
B) Doğudaki Safevi Devleti'nin etkisi
C) Kuzeyde Rusya'nın ortaya çıkması
D) Avrupa'da protestanlık mezhebinin yayılması
E) İngiltere ve Fransa'da millî monarşi yönetimlerinin bulunması

4. XVII. yüzyıldan itibaren Osmanlı ordusunda tımarlı sipahi askerleri yerine saruca, sekban ve levent askerlerinin kullanılmaya başlamasında aşağıdakilerden hangisinin etkili olduğu söylenebilir?

- A) Tımar sisteminin bozulmasının
B) Devşirme geleneğinin işlevini kaybetmesinin
C) Yeniçeri isyanlarının artmasının
D) Akdeniz egemenliğinin zedelenmesinin
E) Hazine giderlerinin artmasının

5. Osmanlı Devleti ile Avusturya arasında 1606 Zitvatoruk Antlaşması imzalanmış ve Avusturya arşidükü protokolde Osmanlı padişahına denk sayılmıştır.

Osmanlı Devleti'nin Avusturya ile Zitvatoruk Antlaşması'nı imzalanmasında aşağıdakilerden hangisinin etkili olduğu söylenemez?

- A) Anadolu'da Celali İsyanları'nın çıkması
B) Safevi tehlikesinin başlaması
C) Erdel'de Avusturya'ya karşı isyan çıkması
D) Avusturya ordusunda disiplinsizlik yaşanması
E) Osmanlı padişahının ordunun başında sefere çıkması



1. İhtilal öncesinde Fransa'da halk, genel olarak ayrıcalıklı ve ayrıcalıksız olmak üzere iki sınıfa ayrılmıştır. Ayrıcalıklı sınıf din adamları ve soylulardan; ayrıcalıksız sınıf ise burjuvalar ve köylülerden oluşmuştur.

Yalnızca bu bilgilere göre Fransız İhtilali'nin yaşanmasında aşağıdakilerden hangisinin etkili olduğu söylenebilir?

- A) Toplumsal eşitsizliğin olması
B) Kralın halka baskı yapması
C) Ekonominin bozuk olması
D) Aydınların çalışmaları
E) Savaşların uzun sürmesi
2. Fransız İhtilali'nin getirdiği milliyetçilik ve hürriyet düşüncelerinin Avrupa'yı etkilemesi ile Avrupa'da ayaklanmaların çıkmasına bağlı olarak;

- I çok uluslu devletleri olumsuz etkilediği,
II. ihtilal fikirlerinin evrensel nitelikte olduğu,
III. Avrupa'da siyasi ve sosyal dengenin bozulduğu

yargılarından hangilerine ulaşılabilir?

- A) Yalnız I
B) Yalnız II
C) Yalnız III
D) I ve II
E) I, II ve III

3. Rusya'ya karşı bağımsızlık mücadelesine giren Polonyalıların isyanında Avusturya ve Prusya, Rusya'nın tarafını tutarken; İngiltere ve Fransa tarafsız kalmıştır.

Bu bilgilere göre aşağıdakilerden hangisine ulaşmaz?

- A) Ulusçuluk isyanlarının yaşandığına
B) Çıkar mücadelesinin bulunduğuna
C) Avusturya ve Prusya'nın çıkarlarının çatıştığına
D) Rusya'nın ayrılıkçı isyanlar ile mücadele ettiğine
E) İngiltere ve Fransa'nın Rusya ile karşı karşıya gelmek istemediğine

4. Aşağıdakilerden hangisinin Fransız İhtilali'nin ortaya çıkmasına sebep olan etkenlerden birisi olduğu söylenemez?

- A) Vergi sisteminde yaşanan adaletsizlik
B) Yargının bağımsızlığının olmaması
C) Viyana Kongresi'nin toplanması
D) Halk arasında eşitsizlik olması
E) Katı bir mutlakiyet yönetiminin bulunması

5. Rusya'nın XIX. yüzyılda Panslavizm siyaseti izlemesinin aşağıdakilerden hangisine neden olduğu söylenemez?

- A) Osmanlı'nın parçalanmasına
B) Avusturya ile arasında çatışma ortamının doğmasına
C) Rusya'da Bolşevik İhtilali'nin ortaya çıkmasına
D) Osmanlı'nın Balkan topraklarında isyanların çıkmasına
E) Osmanlı'nın iç işlerine karışılmasına

7. XVI. yüzyılın sonlarına doğru Avrupa devletleri merkantilizm sayesinde sermayelerini güçlendirirken, Osmanlı'nın merkantilizmin tersine ihracatı sınırlandırması sermaye girişinin yavaşlamasına yol açmıştır.

Bu gelişmeler Osmanlı Devleti'nde aşağıdaki hangisinin yaşanmasına neden olmuştur?

- A) Toprak kayıplarının artmasına
B) Sanayi için gerekli ham madde birikiminin oluşmamasına
C) Ticaret yollarının önem kazanmasına
D) Gayrimüslimlerin ekonomik gücünün azalmasına
E) Gümrük gelirlerinde artışın yaşanmasına
8. Avrupa devletleri Balkanlar'daki Hristiyan toplumlara devlet kurmaları için desteklerken Müslümanlara aynı desteği vermemişlerdir.

Yalnızca bu bilgilere göre aşağıdakilerden hangisine ulaşılabilir?

- A) Ulusçuluk hareketlerinin Osmanlı'yı etkilediğine
B) Osmanlı topraklarında daralma yaşandığına
C) Avrupa devletlerinin çifte standart uyguladığına
D) Balkanlar'daki Müslüman azınlıkların Osmanlı'dan ayrılmadığına
E) Balkanlar'ın Avrupa devletlerinin planlarına sahne olduğuna

9. Osmanlı Devleti'nde Avrupa devletlerinde olduğu gibi ulusal sanayinin gelişmemesinde;

- I. yabancı tüccarlara sürekli imtiyazlar sağlanması,
II. Osmanlı'da merkantilizm sisteminin geliştirilmesi,
III. ticari tekelin gayrimüslimlerin elinde olması

durumlarından hangilerinin etkili olduğu söylenebilir?

- A) Yalnız I
B) Yalnız II
C) Yalnız III
D) I ve II
E) I ve III

10. Sadrazam Rami Paşa, dokuma ustalarına "Avrupalılar çuha ve ipekli kumaşların ham maddelerini bizden alıyor, ürettiklerini bize satıyorlar. Onlarla bu konuda rekabet edemeyiz işimiz, çalışma düzenimizin bozuk olmasından kaynaklanmaktadır. Bu nedenle gerekli alet ve levazımı sağlamalı ve ham madde temizi yurt içinde işlemeliyiz" demiştir.

Bu bilgilere göre Osmanlı Devleti'nin içinde bulunduğu durum ile ilgili olarak aşağıdakilerden hangisi söylenemez?

- A) Avrupa'nın ham madde kaynağı durumunda olduğu
B) Avrupa için pazar ortamı olarak görüldüğü
C) Avrupa sanayisi ile rekabet ortamının yakalanamadığı
D) Sanayi için gerekli bilimsel ve teknolojik çalışmaların tamamlandığı
E) Devlet adamlarının sanayi alanını geliştirmek istediği

11. Sanayi Devrimi sonrasında XIX. yüzyılda büyük şehirlerin ve metropollerin kurulması sırasında meydana gelen nüfus yoğunluğunun;

- I. altyapı sorunlarının yaşanması,
II. plansız göç hareketlerinin ortaya çıkması,
III. çarpık kentleşmelerin görülmesi

durumlarının hangilerinin yaşanmasına yol açtığı söylenebilir?

- A) Yalnız I
B) Yalnız II
C) I ve II
D) I ve III
E) I, II ve III

12. XIX. yüzyılda Avrupalılar buharlı gemiler ve trenler sayesinde kolaylıkla ham madde temin edip ürettikleri malları rahatça pazarlama imkânı bulurken Osmanlı Devleti'nde demiryolu ve deniz yolu ulaşımı yetersizdir.

Yalnızca bu bilgilere göre Osmanlı'nın Sanayi Devrimi'ni gerçekleştirememesinde aşağıdakilerden hangisinin etkili olduğu söylenebilir?

- A) Ulaşım sorunlarını çözmemesi
B) Sanayi burjuvazisini oluşturulamaması
C) Avrupa'nın açık pazarı hâline gelmesi
D) Ulusçuluk isyanlarından etkilenmesi
E) Ticaret yollarının yön değiştirmesi

7. Cumhuriyet Dönemi'nde görülen;
- "Devletin dini İslam'dır" maddesinin anayasadan çıkarılması
 - Soyadı Kanunu'nun çıkarılması
 - Sümerbankın açılması
- gelişmelerinin Atatürk ilkeleri ile ilişkisi aşağıdakilerden hangisinde doğru verilmiştir?

	I	II	III
A)	Laiklik	Halkçılık	Devletçilik
B)	Laiklik	Cumhuriyetçilik	Devletçilik
C)	Halkçılık	Milliyetçilik	Laiklik
D)	Devletçilik	Laiklik	Cumhuriyetçilik
E)	Cumhuriyetçilik	Milliyetçilik	Laiklik

8. Yeni Türk Devleti'nde, laiklik ilkesini kuvvetlendirmek için yapılan;

- Halifeliğin kaldırılması
- Tekke, zaviye ve türbelerin kapatılması
- 1928 anayasa değişikliği

İnkılaplarının siyasi, sosyal ve hukuk alanları ile ilişkisi aşağıdakilerden hangisinde doğru gruplandırılmıştır?

	Siyasi	Sosyal	Hukuk
A)	I	II	III
B)	I	III	II
C)	III	II	I
D)	II	I	III
E)	III	I	II

9. • Aşar Vergisi'nin kaldırılması
• Millet Mekteplerinin açılması
• Soyadı Kanunu'nun çıkarılması
• Osmanlı Devleti'nden kalan rütbe ve nişanların kullanılmasının yasaklanması

Yukarıdaki inkılaplar Atatürk'ün aşağıdaki ilkelerinden hangisiyle öncelikle ilişkilidir?

- A) Milliyetçilik B) Halkçılık
C) Devletçilik D) Laiklik
E) Çağdaşlaşma ve batılılaşma

10. Laiklik, devletin tüm din ve inançlara saygılı olmasıdır. Kişilerin din, inanç ve ibadet özgürlüğüne sahip olmasıdır. Laiklikte din ve vicdan özgürlüğü esastır.

Bu bilgilere göre aşağıdakilerden hangisinin laiklik ile ilgili olduğu söylenemez?

- A) Medeni Kanunun kabulü
B) Toprak reformunun planlanması
C) Aşar Vergisi'nin kaldırılması
D) Tekke, zaviye ve türbelerin kapatılması
E) 1928'de anayasadan 'Türkiye Cumhuriyeti'nin dini İslam'dır' maddesinin çıkarılması

11. Kurtuluş Savaşı sonrası özel sektörde yeterli sermayenin olmamasından dolayı başta ekonomi alanında olmak üzere eğitim, sağlık ve bayındırlık alanlarındaki faaliyetlerin devlet tarafından üstlenilmesi ile devletçilik ilkesi doğmuştur.

Aşağıdakilerden hangisi devletin madenlerin işletilmesini olaylaştırmak amacı ile devletçilik ilkesi doğrultusunda yaptığı çalışmalardan biridir?

- A) Sümerbankın kurulması
B) Eti Bankın kurulması
C) Merkez Bankasının açılması
D) Kalkınma planlarının hazırlanması
E) Toprak Mahsulleri Ofisinin açılması



1. Dünya'nın küresel şeklinden dolayı enlem uzunlukları Ekvator'dan kutuplara doğru gidildikçe küçülür. 60°K enlemi üzerinde yer alan Mehmet ile Azra'nın yerel saatleri aşağıda gösterilmiştir.



Mehmet
09.00



Azra
12.00

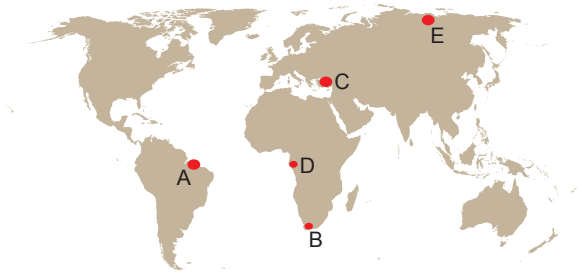
60° kuzey paralelinin çevre uzunluğu 19.800 km olduğuna göre;

- Aralarındaki kuş uçuşu uzaklık 4950' km'dir.
- Azra'nın bulunduğu noktada Güneş erken batar.
- Tarih değiştirme çizgisine Mehmet daha yakındır.
- Aralarında 360 dk zaman farkı vardır.

ifadelerinden hangilerine ulaşılabilir?

- A) Yalnız II B) I ve III C) III ve IV
D) I, II ve IV E) II, III ve IV

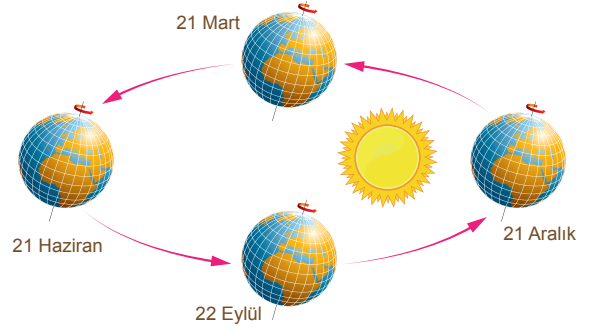
2.



Haritada işaretli merkezlerle ilgili aşağıdaki bilgilerden hangisi Dünya'nın küresel şekli ile ilgilidir?

- Gece-gündüz arası zaman farkı en fazla olan E merkezidir.
- Kalıcı kar sınırı en düşük olan C merkezidir.
- Yerel saat en geri merkez A'dır.
- Yer çekimi en az olan merkezler A ve D'dir.
- 21 Haziran tarihinde B ve C merkezleri farklı mevsimleri yaşar.

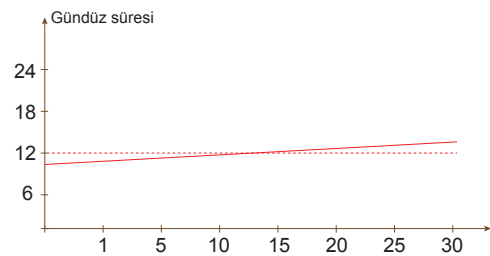
3. Aşağıda Dünya'nın Güneş çevresinde elips şeklindeki yörüngede 365 gün 6 saatte tamamladığı yıllık hareket gösterilmiştir.



Aşağıdakilerden hangisi Dünya'nın yörüngesinin elips biçiminde olmasının sonucudur?

- Muson rüzgârlarının oluşması
- Yer çekiminin kutuplarda fazla olması
- Kuzey Yarım Küre'de rüzgârların sağa doğru sapması
- 3 ocak tarihinde Güneş'in Dünya'ya en yakın olması
- Gece-gündüz sürelerinin değişmesi

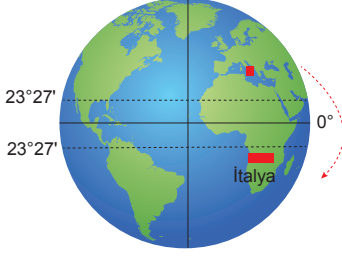
4. Aşağıdaki grafikte Trabzon'da belirli bir ayın günleri içerisinde gündüz süresinin değişimi gösterilmiştir.



Buna göre grafik aşağıdaki aylardan hangisine aittir?

- Haziran B) Mart C) Eylül
D) Mayıs E) Aralık

10.



İtalya mevcut göreceli konum özellikleri aynı kalmak koşuluyla haritada işaretli alanda yer alsaydı;

- I. Bulunduğu matematik iklim kuşağı
- II. Kuzeyine doğru çizgisel hızının azalması
- III. En kısa geceyi yaşadığı tarih
- V. Başlangıç boylamına göre konumu

özelliklerinden hangileri değişirdi?

- A) I ve II B) I ve III C) II ve III
D) II ve IV E) III ve IV

11. Türkiye'nin enlem değerleri aynı, boylam değerleri ise $26^{\circ}\text{D} - 45^{\circ}\text{D}$ yerine $45^{\circ}\text{B} - 26^{\circ}\text{B}$ olsaydı,

- I. Greenwich'in batısında kalırdı.
- II. Iğdır'da yerel saat en geri olurdu.
- III. Kuzeye gidildikçe çizgisel hız artardı.
- V. Doğu - batı arası zaman farkı değişmezdi.

belirlemelerinden hangilerine ulaşamaz?

- A) I ve II B) I ve IV C) II ve III
D) II ve IV E) III ve IV

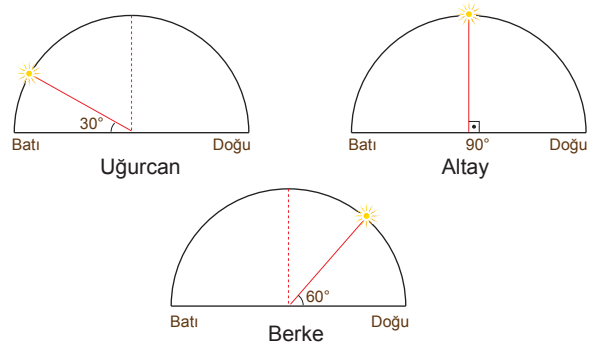
12. Aşağıda farklı enlemlerde yer alan boyları eşit Damla ve Elif'in 21 Mart tarihinde gölge boyları ve gölge yönleri verilmiştir.



Buna göre Damla ile Elif'in bulunduğu konum hakkında aşağıdaki çıkarımlardan hangisi yanlıştır?

- A) İkisi de farklı yarım kürede bulunur.
- B) Damla kuzeye gittikçe çizgisel hız artar.
- C) Elif güneye gittikçe gece - gündüz arası zaman farkı artar.
- D) Damla 21 Aralık tarihinde kış mevsimi yaşar.
- E) Elif 21 Mart tarihinden sonra gece süresini gündüzden daha uzun yaşar.

13.



Dünya'nın farklı yerinde bulunan üç kişinin 23 Eylül tarihinde Güneş'in ufuk düzlemindeki konumu aynı anda gösterilmiştir.

Bu bilgilere göre,

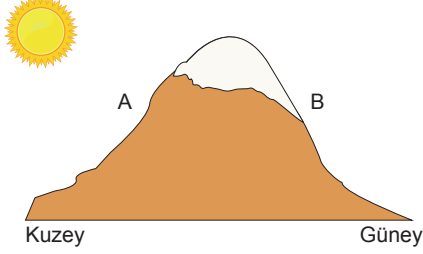
- I. Uğurcan ve Altay arasında 4 saat zaman farkı vardır.
- II. Yerel saati en geride olan Berke'dir.
- III. Tarih değiştirme çizgisine en yakın olan Uğurcan'dır.
- V. Bölgelerin tamamı aynı yarım kürededir.

öncüllerden hangilerine kesin olarak ulaşamaz?

- A) I ve II B) I ve III C) II ve III
D) II ve IV E) III ve IV



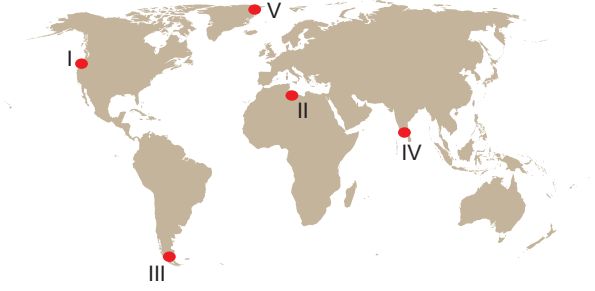
1. Aşağıdaki şekilde A ve B yamaçlarının konumları gösterilmiştir.



- I. A yamacında kalıcı kar alt sınırı daha yüksektir.
- II. B yamacında sıcaklık ortalaması daha yüksektir.
- III. Yağış miktarı B yamacında daha yüksektir.
- IV. Yerleşim üst sınırı A yamacında daha yüksektir.

Baki faktörü dikkate alındığında yukarıdaki bilgilerden hangilerine ulaşamaz?

- A) I ve II B) I ve III C) II ve III
D) II ve IV E) III ve IV
2. Aşağıda sıcaklık özelliklerine göre günler sınıflandırılmış ve haritada beş merkez gösterilmiştir.



Tropik gün: En yüksek sıcaklığın 30°C üzerine çıktığı gün.

Yaz günü: En yüksek sıcaklığın 25°C'nin üzerine çıktığı gün.

Donlu gün: En düşük sıcaklığın 0°C altına düştüğü gün.

Şiddetli donlu gün: En düşük sıcaklığın -10°C'nin altına indiği gün.

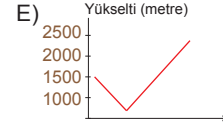
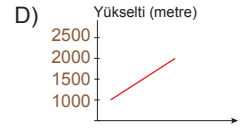
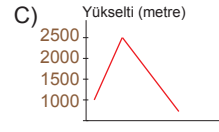
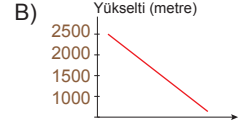
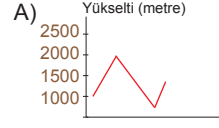
Kış günü: Günlük sıcaklığın 0°C'nin üzerine çıkmadığı gün.

Buna göre haritadaki merkezlerden hangisinde temmuz ayı içerisinde sıcaklık özelliklerine göre yaşayamayacağı gün yanlış eşleştirilmiştir?

- A) I - Yaz günü B) II - Tropik gün
C) III - Kış günü D) IV - Donlu gün
E) V - Şiddetli donlu gün

3. Kapadokya'da sıcaklığın 10°C olarak ölçüldüğü anda balonun havalanmasıyla sıcaklık ortalaması 5°C kadar düşmüştür.

Yükselti - sıcaklık arasındaki ilişki düşünüldüğünde yükselti değişimi aşağıdaki grafiklerden hangisi olabilir?



4. Atmosfer basıncı üzerinde sıcaklık, yükselti, yer çekimi, yoğunluk gibi faktörler etkili olmaktadır.

Basıncı ve sıcaklık arasındaki ilişki düşünüldüğünde aşağıda verilen örneklerden hangisi bu ilişkiyle çelişir?

- A) Sabahın ilk saatlerinde basıncın daha yüksek olması
B) Yaz mevsiminde karasal alanlarda alçak basıncın etkili olması
C) Tropikal çöllerde yıl boyunca yüksek basıncın etkili olması
D) Ocak ayında Muson Asya'sının iç kesiminde yüksek basıncın etkili olması
E) Ocak ayında Sibirya'nın yüksek basıncın etkisi altında kalması

5. Aşağıdaki haritada Antalya ve İzmir illerinin sınırları gösterilmiştir.



Buna göre;

- I. Orman üst sınırının Antalya'da yüksek olması,
 - II. İzmir'de yağışın daha az olması,
 - III. İzmir'de denizel etkinin iç kesimlere daha çok sokulması
- gibi özelliklerinden hangileri Antalya ve İzmir'deki dağların kıyıya uzanırlarının farklı olmasıyla ilgilidir?**

- A) Yalnız I B) I ve II C) II ve III
D) Yalnız III E) I, II ve III

6. Aşağıdaki haritada dört il merkezinin ocak ayı sıcaklık ortalaması verilmiştir.



Buna göre;

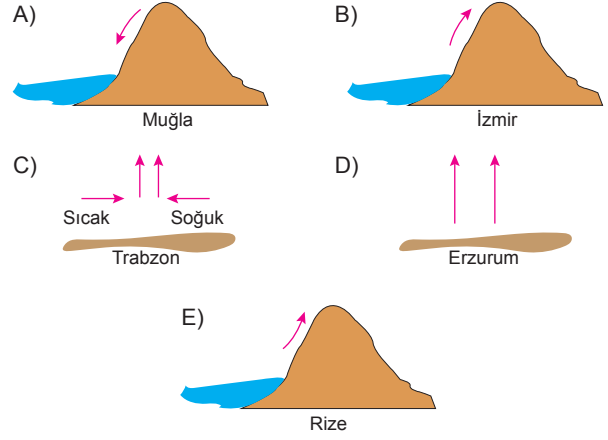
- I. Trabzon - Erzurum
- II. Mersin - Trabzon
- III. Diyarbakır - Erzurum
- IV. Mersin - Erzurum

verilen illerden hangileri arasındaki sıcaklıkların farklı olması sadece yükselti ve enlem ilişkisiyle açıklanabilir?

- A) I ve II B) II ve III C) II ve IV
D) III ve IV E) I ve IV

7. Türkiye'de dağların denize paralel uzandığı alanlarda denizden gelen nemli havanın dağ yamacı boyunca yükselmesiyle orografik yağışlar görülür.

Bu yağış oluşum şeklini gösteren grafik ve yaygın olarak görüldüğü il hangi seçenekte doğru verilmiştir?



8. Türkiye'nin iklimini etkileyen faktörler, mutlak konum ve göreceli konum başlıkları altında toplanabilir;

Buna göre aşağıda verilen durumlardan hangisi farklı bir nedene bağlanabilir?

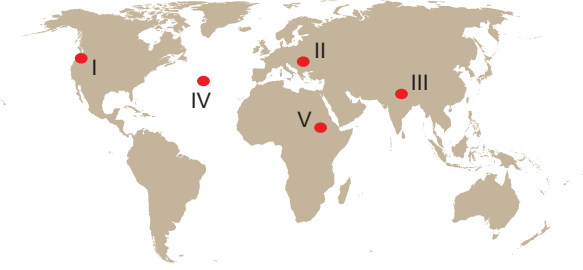
- A) Antalya ve Diyarbakır hemen hemen aynı enlemde yer almasına rağmen Diyarbakır'da yaz sıcaklık ortalamasının yüksek olması
- B) İzmir'den Van'a gittikçe ocak ayı sıcaklık ortalamasının azalması
- C) Karadeniz Bölgesi'nde kuzeye bakan yamaçların bitki örtüsünün daha gür olması
- D) Erzurum, Rize'ye göre Ekvator'a yakın olmasına rağmen yıllık sıcaklık ortalamasının daha düşük olması
- E) Torosların güneye bakan yamacında kuzey yamacına göre tarım üst sınırının daha yüksek olması

9. Rüzgârlar geldikleri yere göre sıcaklığı farklı şekilde etkilerler.

Buna göre Türkiye'de etkili olan aşağıdaki rüzgârlardan hangileri sıcaklık ortalamasını yükseltir?

- A) Lodos - Poyraz B) Kible - Lodos
C) Samyeli - Karayel D) Kible - Yıldız
E) Poyraz - Karayel

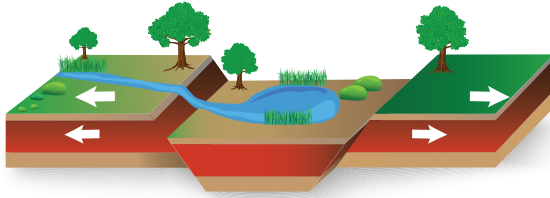
7.



Yukarıdaki haritada işaretli alanlardan hangisindeki kıtasal-okyanusal levhaların karşılaşma alanlarında oluşmuş dağlara örnek vardır?

- A) I B) II C) III D) IV E) V

8. Aşağıdaki görselde levhaların hareket yönleri gösterilmiştir.



Aşağıdakilerden hangisi bu alanda oluşması beklenen durumlardan değildir?

- A) Volkanik ada B) Şiddetli repremler
C) Volkanik faaliyet D) Kıvrım dağlar
E) Okyanus sırtları

9.

- I. Taş kömürü yataklarının oluşması
II. İstanbul ve Çanakkale Boğazlarının oluşması
III. Alp orojenezinin yaşanması
IV. Ege Denizi'nin oluşması

Yukarıda verilenlerden hangileri Kuaterner'da gerçekleşen olaylardır?

- A) I ve II B) II ve III C) III ve IV
D) I ve III E) II ve IV

10. Yerin iç yapısı ile ilgili bilgi edinmek isteyen bir araştırmacının aşağıdaki kayaç türlerinden hangisini incelemesi daha uygundur?

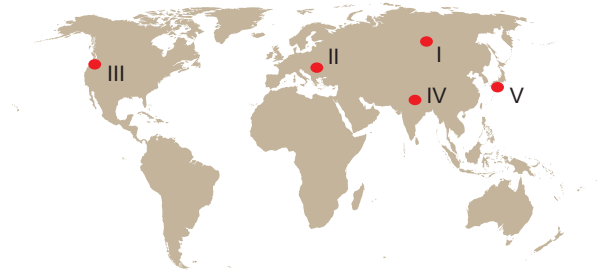
- A) Jips B) Taş kömürü C) Granit
D) Tebeşir E) Mermer

11. Yerin derinliklerinde soğuyup katılaştıran magmanın zamanla üzerindeki malzemelerin aşınması sonucunda ortaya çıktığı alan "tor topogğrafyası" olarak adlandırılır.

Türkiye'de aşağıdaki alanlardan hangisinde tor topoğrafyası görülme ihtimali daha yüksektir?

- A) Uludağ çevresi B) Taşeli Platosu
C) Sinop çevresi D) Şanlıurfa Platosu
E) Nur Dağları

12. Uzun süren aşınım döneminden sonra oluşan hafif dalgali düzlüklere peneplen adı verilir.



Yukarıdaki haritada işaretli alanlardan hangisindeki peneplene rastlanma ihtimali daha yüksektir?

- A) I B) II C) III D) IV E) V

5. Önergeler, bir yargıyı ifade eden ve doğru ya da yanlış olarak değerlendirilebilen ifadelerdir. Bir önerme, özne ile yüklem arasındaki ilişkiyi ortaya koyar. Tek bir yargıyı içeren önermelere basit önerme, birden fazla yargıyı içerenlere ise bileşik önerme denir. Önerme, yüklem niteliğine göre olumlu ya da olumsuz olabilir. Tikel önermeler, bir grubun veya bütünü yalnızca bir kısmına yönelik yargılar içerirken; tümel önermeler, bütün bir sınıfa yönelik genel bir yargı ifade eder.

Bu açıklamaya göre, aşağıdakilerden hangisi bir tikel önerme örneğidir?

- A) Bütün insanlar ölümlüdür.
- B) Bazı öğrenciler düzenlidir.
- C) Ayşe ve Fatma öğrencilerdir.
- D) İnsan güvenilmezdir.
- E) Simge, bu sınıfın başkanıdır.

6. Zihnin belirli bir kurala, düzene veya sıraya göre gerçekleştirdiği akıl yürütmeler; tümdengelim, tümevarım ve analogi olarak üç ana başlıkta toplanır. Tümdengelimde, tümelden tikele doğru bir akıl yürütme yapılır ve sonuç zorunlu olarak öncüllerden çıkar. Tümevarım ise tikelden tümele doğru bir akıl yürütme biçimidir ve burada yapılan genellemeler kesinlik taşımayabilir. Bu nedenle tümevarımsal akıl yürütmenin sonucu zorunlu değildir. Analogi ise iki şey arasındaki benzerlikten yola çıkarak birinde var olan özelliğin diğerinde de olduğu varsayımına dayanır.

Yukarıdaki açıklamaya göre, aşağıdaki örneklerden hangisi analogiye dayanarak yapılan bir akıl yürütmeyi ifade eder?

- A) Tüm insanlar ölümlüdür. Ahmet bir insandır. O hâlde Ahmet ölümlüdür.
- B) Tüm kuşlar uçar. Serçe bir kuştur. O hâlde serçe uçar.
- C) Aybars, doğduğunda ağlıyordu. Güler, doğduğunda ağlıyordu. O hâlde tüm bebekler doğduğunda ağlar.
- D) Denizde su vardır ve içinde balıklar yaşar. Gölde de su vardır. O hâlde gölde de balıklar yaşar.
- E) Bazı insanlar gözlüklüdür. Bütün öğrenciler gözlüklüdür.

7. Tutarlılık, önermelerin birbiriyle çelişmemesi veya uyumlu olması durumudur. Tutarlılığın olduğu yerde, önerme ve yargılar arasında anlamlı bir ilişki kurulur. Mantıkta çelişiklik ise, özne ve yüklemi aynı olan ancak nitelik veya nicelik bakımından farklılık gösteren önermelerin birbirine karşıt olması durumudur. Örneğin, "Tüm bilim insanları filozoftur." ve "Bazı bilim insanları filozof değildir." önermeleri arasında çelişiklik bulunmaktadır. Bu iki önerme, aynı öznenin bahsettiği birbiriyle uyumsuz bir yargı sunar. Mantıktaki karşıt olum kareleri, bu tür çelişkili ilişkileri göstermek için kullanılır.

Yukarıdaki bilgilere göre, aşağıdaki önermelerden hangisi "Tüm bilim insanları filozoftur." önermesiyle çelişir?

- A) Hiçbir bilim insanı filozof değildir.
- B) Bazı bilim insanları filozoftur.
- C) Bazı bilim insanları filozof değildir.
- D) Bilim insanları arasında filozof olanlar vardır.
- E) Tüm bilim insanları bilimsel çalışmalar yapar.

8. Temellendirme, bir görüşün doğruluğunu veya geçerliliğini göstermek için yeterli düzeyde kanıt ve dayanak sağlama işlemidir. Bu süreçte felsefe, doğru bilgiye ulaşmak için mantıksal akıl yürütme yöntemleri kullanır. Descartes'a göre insan, temellendirilmeyen her düşüncenin doğruluğuna şüpheyle yaklaşmalıdır. Temellendirme süreci, düşünceleri mantıksal bir düzleme oturtmayı, doğru ve yanlış ayrımını yapmayı ve bu ayrımı rasyonel bir zeminde açıklamayı içerir. Bu yolla, herhangi bir düşüncenin doğruluğu hakkında şüpheye düşmeden karar vermek mümkündür.

Bu bilgilere göre, aşağıdakilerden hangisi temellendirme kavramını en iyi açıklar?

- A) Bir düşüncenin doğruluğunu kanıtlamak için mantık dışı unsurlardan yararlanmak
- B) Bir düşüncenin doğruluğunu göstermek için yeterli kanıt ve dayanak sağlamak
- C) Bir düşünceyi sorgulamadan doğru kabul etmek
- D) Her düşüncenin doğru olduğunu varsaymak
- E) Mantıksal akıl yürütme yöntemlerinden uzaklaşmak



1. Martha Nussbaum, *İyiliğin Kırılganlığı* adlı eserinde, insanın ahlaki hayatının, dış dünyadaki rastlantılar ve belirsizlikler karşısında ne kadar savunmasız olduğunu ele alır. Ona göre, iyi bir insan olmak, her zaman risk almaya ve karşılaşılabilecek olumsuz sonuçlara rağmen ahlaki değerlerden ödün vermemeye dayanır. Tragedyalar üzerinden iyiliğin kırılganlığını irdeleyen Nussbaum, insanın iyi olma çabasının, çoğu zaman dış koşulların kontrol edilememesiyle zayıfladığını ve bu yüzden iyiliğin, tam anlamıyla garanti edilemeyecek bir şey olduğunu savunur. İyilik, hem ahlaki kararlarla hem de bu kararların uygulanacağı koşulların belirsizliğiyle sınanır.

Bu parçadan hareketle aşağıdakilerden hangisi çıkarılabilir?

- A) İyi bir insan olmak, sadece niyete bağlıdır, sonuçların bir önemi yoktur.
B) İyilik, dış koşullardan bağımsız olarak her zaman korunabilir.
C) İyilik, öngörülemeyen dış etkenlerin oluşturduğu belirsizlikle sürekli tehdit altındadır.
D) Ahlaki yaşam, her zaman sabit ve değişmeyen kurallar çerçevesinde ilerler.
E) İyi bir insan olmak, her zaman dış koşullardan bağımsızdır.

2. **Ahmet:** "Baba, şu sırt ağrıların için bir doktora görünmelisin."

Baba: "Boş ver oğlum, ne olacağı zaten yazılmış. Kaderimde iyileşmek varsa doktora gitmeden de geçer, yoksa doktora gitmek boşuna."

Ahmet: "Ama baba, doktorlar bu yüzden var. Belki senin de bir an önce iyileşmene yardımcı olabilir."

Babasının her şeyin kaderle belirlendiğini düşünmesine karşı çıkan Ahmet, özgür iradenin önemli olduğunu savunarak babasını ikna etmeye çalışmaktadır. Ahmet'in babasını ikna etmek için aşağıdakilerden hangisini söylemesi beklenir?

- A) Kaderimizde ne olduğunu bilemeyiz, ama doktora gitmek bir adım olabilir.
B) Eğer kaderde varsa doktora gitmeden de iyileşirsin, bekleyelim.
C) Kaderimizi değiştiremeyiz, doktora gitmeye gerek yok.
D) Doktora gitmek, iyileşmenin kaderinde olup olmadığını göstermez.
E) Tedavi için elimizden geleni yapalım, gerisini kadere bırakalım.

3. Kant'ın deontolojik etik anlayışında, bir eylemin ahlaki değeri, sonuçlarına bağlı değildir. Ona göre, bir eylemin ahlaki olabilmesi için kişinin bu eylemi görev bilinciyle, evrensel bir ahlak yasasına uygun olarak gerçekleştirmesi gerekmektedir. Kişisel çıkarlar veya duygular, bu tür ahlaki eylemler için belirleyici olamaz.

Bu açıklamaya göre aşağıdaki davranışlardan hangisi Kant'ın etik anlayışıyla en çok örtüşmektedir?

- A) İyilik yaparken, karşılık beklemeksizin ve sadece ahlaki olduğu için yapmak
B) Başarı elde etmek için haksız rekabet yapmak
C) Başkalarından gelecek övgüleri dikkate alarak davranmak
D) Yalan söylemenin doğru olduğunu düşündüğümüz anlarda bile dürüst olmak
E) Bir ödül kazanmak için gönüllü bir faaliyette yer almak

4. Protagoras, ahlak anlayışında insanın algı ve deneyimlerinin belirleyici olduğunu savunur. Onun görüşüne göre, doğru ve yanlış, iyi ve kötü, bireylerin algılarına ve toplumsal uzlaşmaya dayanmaktadır. Bu durumda, ahlaki değerler, bireyden bireye ve toplumdan topluma farklılık gösterir. Protagoras, ahlaki ilkelerin, sabit ve evrensel olan bir gerçeklikten ziyade, değişken ve öznel olduğunu vurgular. Dolayısıyla, ahlak, bireylerin ve toplumların ortak bir kararına dayalı bir yapı olarak kabul edilir.

Bu açıklamalara dayanarak, Protagoras'ın düşünceleriyle ilgili aşağıdaki sorulardan hangisi tartışılabilir?

- A) Ahlaki değerlerin evrenselliği söz konusu mudur?
B) Ahlak, yalnızca bireysel bir algı mıdır?
C) Ahlaki eylemlerin sonuçları ne olmalıdır?
D) Ahlak, toplumlar arası karşılaştırmalarda nasıl değerlendirilir?
E) Ahlaki normların temeli neye dayanır?



1. Sanat, doğanın bir yansıması değil, bir yorumdur. Sanatçı, doğayı olduğu gibi kopyalamak yerine, kendi düşünce ve duygularıyla yeniden şekillendirir. Doğa sabit ve değişmezken, sanat eseri sanatçının bakış açısına göre farklılık gösterir ve sanatçının dünyayı nasıl algıladığını ve hissettiğini yansıtır. Bu nedenle, sanat eseri doğanın birebir tekrarı olarak değil, sanatçının yorumuyla hayat bulur.

Bu parçaya göre sanat hakkında aşağıdakilerden hangisine ulaşılabilir?

- A) Sanat, doğanın sabit bir kopyası olarak kabul edilir.
B) Sanat, doğanın estetik unsurlarını basit bir şekilde yansıtır.
C) Doğa, sanatçının düşünce ve duygularından bağımsız olarak sanat eserine yansır.
D) Sanat eseri, sanatçının doğayı algılama ve yorumlama biçimidir.
E) Sanat, yalnızca doğanın estetik yönlerini öne çıkarır.

2. Kültürel rölativizm, her toplumun kendine özgü estetik değerler geliştirdiğini savunur. Buna göre, bir toplumun estetik yargıları diğerinden farklı olabilir ve her bir kültürün estetik anlayışı, o kültüre özgü koşullar ve normlara dayanır. Evrensel estetik yargılar olmadığını iddia eden bu görüş, estetik değerlerin kültürden kültüre değişebileceğini vurgular.

Bu parça aşağıdaki görüşlerden hangisini desteklemektedir?

- A) Estetik yargılar bireylerin kişisel tercihleri ile belirlenir.
B) Her kültür, kendi içinde evrensel estetik yargılar oluşturur.
C) Estetik yargılar kültürel koşullara göre şekillenir.
D) Bireysel beğeniler kültürden bağımsızdır.
E) Evrensel estetik kurallar tüm toplumlar için geçerlidir.

3. Yapay zekâya, "İçinde adalet, özgürlük ve umut kavramlarını barındıran bir şiir yazar mısın?" komutu verildiğinde, yapay zekâ şu şiiri yazmıştır:

Adaletin sessiz çılgınlıkları,
Hürriyetin göğsünde yankılanır.
Umutun kanatlarında taşır insan,
Kendi öz benliğini, sonsuz bir ufka.

Aynı komut tekrar verildiğinde ise yapay zekâ bu kez şu şiiri üretmiştir:

Özgürlüğün ince çizgisinde yürür insan,
Adaletin terazisinde doğrulur umut.
Her karanlıkta bir ışık belirdiğinde,
İnsan, sonsuz bir kurtuluşu düşler.

Her seferinde aynı komut verilmesine rağmen, yapay zekâ her defasında farklı şiirler yazmayı başardı. Bu şiirlerin bazıları beğenilirken, bazıları tartışmalara yol açtı. İzleyiciler arasında, bu şiirlerin birer sanat eseri olup olmadığı ve estetik değer taşıyıp taşımadığı konusunda fikir ayrılıkları oluştu.

Bu şiirler birer sanat eseri olarak kabul edilirse, bir sanat eserinin taşınması gereken aşağıdaki özelliklerden hangisi bu tartışmanın ana odağı olabilir?

- A) Kişisel bir ifade barındırması
B) Sanatın evrensel estetik normlara uygun olması
C) Yaratıcısının bireysel tecrübesini yansıtmaması
D) Bir sanat eserinin özgün ve tekrarlanamaz olması
E) Sanat eserinin duygusal bir derinlik taşıması

4. Platon'a göre sanat, gerçeğin taklidinin taklidini yapar ve bu nedenle bizi hakikatten uzaklaştırır. Sanat eserleri, yalnızca duysal dünyadaki nesnelerin kopyalarıdır ve bu nesneler de asıl gerçeklik olan idealerin taklididir. Dolayısıyla, sanat eserleri gerçekliğin sadece bir gölgesi olmakla kalmaz, aynı zamanda hakiki bilgiye ulaşmayı da engeller. Platon için bilgi, yalnızca idealerin akılla kavranmasıyla elde edilebilir; sanat ise bu süreçten uzaklaştıran bir etkinliktir.

Bu parçada Platon'un sanata yönelik eleştirisinin temel nedeni nedir?

- A) Sanatın estetik hazlar sunması
B) Sanatın hakiki gerçeklikten uzaklaştırıcı bir doğaya sahip olması
C) Sanatın duysal dünyayı ideal dünyaya tercih etmesi
D) Sanatın toplumsal düzene zarar vermesi
E) Sanatın bireysel yaratıcılığı ön plana çıkarması



1. “Buna karşılık, iman edip sâlih amel işleyenleri, içinde ebediyen kalmak üzere, altından ırmaklar akan cennetlere yerleştireceğiz. Onlar için orada tertemiz eşler de vardır. Biz onları, serin ve hoş gölgeler altına alacak, sürekli taze ve hiç kesilmeyen nimetler içinde yaşatacağız.” (Bakara 261. ayet)

Bu ayette verilmek istenen mesaj aşağıdakilerden hangisi olamaz?

- A) Salih ameller işleyenler Allah'ın razı olduğu kişilerdir.
B) Allah'ın bir va'didir.
C) Allah'a iman edenin gerektirdiği sorumlulukların olması.
D) Allah'ın verdiği rızıkların dünya ile sınırlı kalmayacağı.
E) Allah'ın tövbe edenleri mükafatlandıracağı.
2. İslam, insanı ve tabiatı birbirinden tamamen ayırmamış, bilakis evrendeki düzende ilahi kudretin, hâkimiyetin, lütfun ve bereketin varlığına insanın dikkatini çekmiştir. İnsan, şayet evrendeki nizamı, natüralist bir anlayışla mutlak bağımsız bir gerçeklik alanı gibi değil de “varlığı zorunlu olan”a (vâcibü'l-vücûd) ulaştırın daha yüksek bir gerçekliğin aynası olarak tefekkür etmeyi öğrenirse kâinat da kendi sınırlarını insana açarak tek olan Yüce Yaratıcı'yı bulması için ona yardımcı olacaktır.

Bu metinde verilenler ;

- I. “Allah, gökten su indirir de onunla ölümünden, kuruyup katılaştıktan sonra yeryüzünü diriltir. Elbette bunda gerçeğe kulak verecek bir toplum için açık bir işaret ve mühim bir ders vardır.” (Nahl 65. ayet)
- II. “Göklerin ve yerin yaratılışında, gecenin ve gündüzün birbiri ardınca gelişinde, insanlara yararlı şeylerle dolu denizlerde, yeryüzünü her canlıya yaymasında, rüzgârların ve bulutların emre itaatinden akıl sahipleri için gerçekten deliller vardır.” (Rum 22-25. ayet)
- III. “Dinde doğru dürüst olun ve onda fırkalara, ayrılıklara düşmeyin.” (Şura 13. ayet)

yukarıdaki ayetlerden hangileriyle doğrudan ilişkilendirilebilir?

- A) Yalnız I
B) Yalnız II
C) I ve II
D) II ve III
E) I, II ve III

3. Allah'ın Teala'nın isimlerinin bilinmesi her müslüman için önemlidir. Örneğin bir kimse bu isimleri bildiğinde Allah'ın onu her an duyduğunu bilerek, yalan söylemez ve dedikodu yapamaz duruma gelecektir. Yine Allah tarafından her an gözetim altında olduğunu bilerek davranışlarını kontrol eder. İnsanın bilgisinin sınırlı olduğunu Allah'ın bilgisinin sınırsız olduğunu bilir.

Bu parçada açıklamaları verilen Allah'ın isimleri aşağıdakilerden hangisidir?

- A) Semi - Basar - İlim
B) Basar - Semi - İrade
C) Vahid - Vücud - Kıdem
D) İrade - Kelam - Beka
E) Tekvin - Kudret - Beka

4. Allah'ın zatını yüceliğini, sıfatlarını ve fiillerini en güzel şekilde ifade etmektedir. Allah'ın azizliği ve her şeyden üstünlüğünü ifade eden dualarda ve zikirlerde kullanılan, kalplerin mütmain olması Allah'a ait güzel isimlerdir. Allah Teala'nın isimleri hakkında bilgi kaynakları Kur'an ve sünnettir.

Bu parçada verilenler aşağıdakilerden hangisiyle ilgilidir?

- A) Ahseni Takvim
B) Muhalefetün Havadis
C) Kıyam Bi Nefsihi
D) Eşrefi Mahlukat
E) Esmâül Hüsna



1. İslam bezeme sanatlarının hazırlanış tekniği itibarıyla en cazibi ve süratli netice alınandır. Kitreyle yoğunlaştırılmış su üstünde, özel hazırlanmış boylarla oluşturulan desenlerin kâğıt üzerine geçirilmesi yoluyla yapılan bir süsleme sanatıdır. Fırça ve boyları özel olan bir sanattır.

Yukarıda tanımı verilen sanat aşağıdakilerden hangisidir?

- A) Hüsni Hat
B) Minyatür
C) Kündekari
D) Ebru
E) Ciltçilik
2. Kelime anlamı "Altınla Süslemek" tir. 18 ve 22 ayar ezilmiş altın ve muhtelif renklerle kitap ve levha gibi yazma eserlerin süslenmesidir. Bu sanat; sevgi, sabır, zevk ve zarafetin ortaya koyduğu eserler bütünüdür. Padişahlara, vezirlere, devlet büyüklerine, tanınmış kişilere sunulan ya da özel kitaplar için hazırlanan her çeşit yazma kitap, özellikle şiir kitaplarını süslemek için kullanılan eski bir uygulamadır. en çok Kuran-ı Kerim'in ilk ve son sayfalarında, surelerin baş taraflarında kullanılmıştır.

Tanımı verilen İslam sanatı aşağıdakilerden hangisidir?

- A) Tezhip
B) Hüsni Hat
C) Minyatür
D) Çinicilik
E) Ebru

3. Aşağıdakilerden hangisi İslam etkisiyle oluşan edebî türlerden değildir?

- A) Miraciye
B) İlahi
C) Miraciye
D) Nutuk
E) Sav

- 4.



İslam, türbe mimarisinin en önemli eserlerinden birisi olarak kabul edilir. Babür İmparatorluğu'nun 5. hükümdarı Şah Cihan'ın 17 Haziran 1631 tarihinde genç yaşta ölen eşi Ercümen Bânû Begüm (Mümtaz hatun) için o zamanki imparatorluğun başkenti olan Agra'da Yamuna Nehri'nin kıyısında yaptırılmıştır. Türbenin mimari güzelliği kadar çevresinde oluşan romantik hâtıralar da esere ayrı bir özellik katar.

Tanımı verilen eser aşağıdakilerden hangisidir?

- A) Kurtuba Ulu Cami
B) Şam Ümeyye Cami
C) Tac Mahal
D) Selimiye Cami
E) Mostar Köprüsü