

LGS TARZI

DESTANSI

T.C.
INKILAP
TARİHİ VE
ATATÜRKÇÜLÜK

TARZINI YANSITI



[Mehmet Celal ÖZYILDIZ]

RETRO

EMENEMER
15 DENEYİM
91

VIDEO
ÇÖZÜMLÜ



9.



I. Balkan Savaşı sonrasında Avrupa Haritası



II. Balkan Savaşı sonrasında Avrupa Haritası

Verilen haritalardan hareketle aşağıdakilerden hangisi söylenemez?

- A) II. Balkan Savaşı sonrasında Osmanlı Devleti daha önce kaybettiği topraklardan bazılarını geri almıştır.
- B) I. Balkan Savaşı'nın ardından 12 Adalar İtalya'da kalmıştır.
- C) I. Balkan Savaşı sonucunda bağımsız devlet sayısında artış meydana gelmiştir.
- D) II. Balkan Savaşı sonucunda Bulgaristan'ın Ege Denizi ile bağlantısı kalmamıştır.

10. Balkan Savaşlarının sona ermesiyle 1913'te Mustafa Kemal, Bulgaristan'ın başkenti Sofya'ya askeri ataşe olarak atandı. Yüzlerce yıl Osmanlı egemenliği altında yaşayan Bulgaristan'ın I. Balkan Savaşı'nda, Osmanlı Devleti'nin başkentini ele geçirmeye teşebbüs edecek kadar güçlenmesinin nedenlerini araştırdı. Bulgaristan'da bulunduğu süre içinde yaptığı incelemeler akılcı ve gerçekçi bir kalkınmanın sonuçlarını görmesini sağlamıştı. Mustafa Kemal bu konularda çeşitli değerlendirmelerde bulunmuştu.

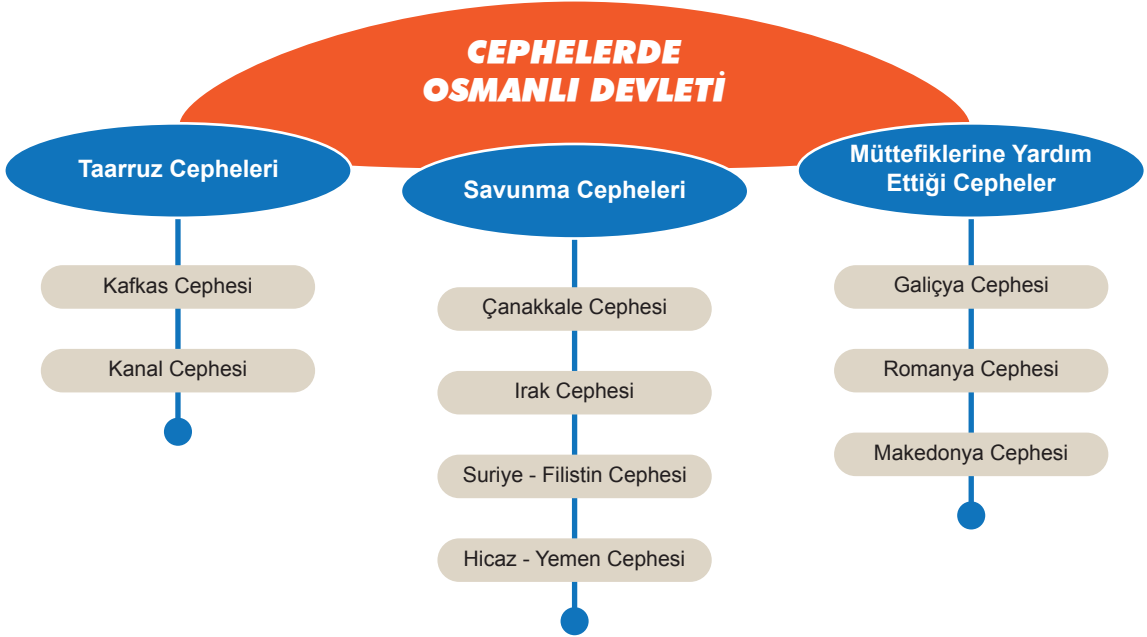
Buna göre Mustafa Kemal'in Sofya'da aşağıdaki alanların hangisinde tecrübe kazandığı söylenebilir?

- A) Diplomatik
- B) Askerî
- C) Hukukî
- D) Ekonomik

3. Osmanlı Devleti bu cepheyi Mısır'ı geri almak için Almanlarla birlikte açtı. Almanların bu cephedeki amacı Süveyş Kanalı'nı ele geçirerek İngiltere'nin Uzak Doğu sömürgelerine giden yolunu kesmekti. Cemal Paşa komutasındaki Osmanlı ordusu, Şubat 1915 tarihinde I. Kanal Harekâtı'nı, Ağustos 1916'da II. Kanal Harekâtı'nı yaptı. İngilizlerin kışkırtmasıyla bir kısım Arapların Osmanlı'ya karşı ayaklanması ve ordunun malzeme sıkıntısı gibi nedenlerle başarıya ulaşamadı. İngilizler, Sina Yarımadası'nı alarak Suriye sınırına kadar dayandı.

Buna göre Kanal Cephesi ile ilgili aşağıdakilerden hangisi söylenemez?

- A) İtilaf Devletlerinin etkinliğini kırmak amaçlanmıştır.
 B) Osmanlı, Almanlar ile birlikte mücadele etmiştir.
 C) İttifak Devletlerinin zaferi ile sonuçlanmıştır.
 D) İslamcılık fikir akımının etkisiz olduğu görülmüştür.
4. Aşağıdaki diyagramda Osmanlı Devleti'nin I. Dünya Savaşı'nda yer aldığı cepheler verilmiştir.



Buna göre Osmanlı Devleti ile ilgili aşağıdakilerden hangisi söylenebilir?

- A) İttifak Devletlerinin yanında savaşa girmiştir.
 B) Çanakkale Cephesi haricinde başarılı olamamıştır.
 C) Cephelerin tamamında kendi sınırlarında mücadele etmiştir.
 D) Bazı cephelerde birlikte savaştığı devletlere destek amaçlı savaştığıdır.

5.



Buna göre Türk Medenî Kanunu ile kadınların aşağıdaki alanların hangisinde hak elde ettiği söylenemez?

A) Hukukî

B) Ekonomik

C) Siyasi

D) Toplumsal

6. Toplumsal yaşamda, tapu ve miras işlerinde, okul ve askerlik kayıtları gibi daha birçok konuda ortaya çıkabilecek karışıklıkları önlemek amacıyla her aileye bir soyadı verilmesi kararlaştırılmıştır. Bu amaçla 21 Haziran 1934'te TBMM'de kabul edilen Soyadı Kanunu'na göre:

- Her Türk öz adından başka bir soyadı taşıyacaktır.
- Söyleyişte, yazılışta ve imzada ad önde, soyadı sonda kullanılacaktır.
- Soyadları Türkçe olacaktır.
- Rütbe, memuriyet, yabancı ırk ve millet adlarıyla, ahlaka aykırı ve gülünç olan sözcükler soyadı olarak alınmayacaktır.

Buna göre Soyadı Kanunu ile ilgili,

- Millî değerlerin korunması amaçlanmıştır.
- Ayrıcalıkları ortadan kaldırmaya çalışmıştır.
- Resmî işlerdeki karışıklıkları gidermeyi hedeflemiştir.

çıkarımlarından hangileri yapılabilir?

A) I ve II

B) I ve III

C) II ve III

D) I, II ve III

4. Osmanlı borçları; Türkiye ile Osmanlı Devleti'nden Trablusgarp Savaşı ve sonrasında toprak alan 14 ülke arasında yıllık ortalama gelir oranlarına göre bölüştürüldü ve 20 yıl içinde ödenmesine karar verilmişti. Buna göre Osmanlı borçlarının ülkelere göre dağılımı şöyledir:

Ülkeler	Borç miktarı	Ülkeler	Borç miktarı
Hicaz	1.499.518 lira	İtalya	243.000 lira
Türkiye	84.597.495 lira	Bulgaristan	1.776.354 lira
Yunanistan	11.054.534 lira	Irak	6.772.142 lira
Suriye	11.108.858 lira	Yugoslavya	5.435.597 lira
Filistin	3.284.429 lira	Arnavutluk	1.633.233 lira
Yemen	1.182.104 lira	Diğer ülkeler	1.017.626 lira

Yalnızca verilen bu bilgilerden hareketle;

- I. Osmanlı Devleti'nden kalan borç miktarı, en fazla Türkiye devletine kalmıştır.
- II. Osmanlı borçlarının ülkelere göre dağılımında en az pay İtalya'ya düşmüştür.
- III. Türkiye, 1929 yılında yaşanan ekonomik kriz nedeniyle borçlarını ödeyememiştir.
- IV. Hicaz, kutsal yer olarak kabul edildiği için borçları direkt silinmiştir.

ifadelerinden hangilerine ulaşılabilir?

A) Yalnız I

B) I ve II

C) II, III ve IV

D) I, II, III ve IV

5.

Boğazlar, daha önce Türk temsilcisinin başkanlığında uluslararası bir komisyon denetimine bırakılmıştı. Akdeniz ve Karadeniz'i birbirine bağlayan bu su yolu, Türkiye için stratejik bir öneme sahipti. Fakat daha önceki anlaşmada Türkiye'nin Boğazlar üzerinde tam egemenliği bulunmuyordu. Birinci Dünya Savaşı'nın çözemediği pek çok sorun sebebiyle dünya devletleri bir kez daha hızlı silahlanma yarışına girdiler. İtalya ile Habeşistan arasında savaş başlarken Japonya da Mançurya'ya saldırdı. Bu gelişmelerden rahatsız olan Türkiye, Atatürk'ün önderliğinde Boğazlar sorununu çözmek için ilgili devletlere görüşme çağrısında bulundu. İsviçre'nin Montrö kentinde toplanan konferansa; Türkiye, İngiltere, Fransa, Sovyetler Birliği, Yunanistan, Bulgaristan, Romanya, Yugoslavya ve Japonya katıldı. Yapılan görüşmelerin ardından 20 Temmuz 1936'da Montrö Boğazlar Sözleşmesi imzalandı. Bu sözleşmeye göre;

- Boğazlar komisyonu kaldırılarak Boğazlar'ın kontrolü Türkiye'ye bırakıldı.
- Türkiye, Boğazlar'ın iki yakasında da istediği kadar asker bulundurabilecek.
- Ticaret gemilerine Boğazlar'dan geçiş serbestliği tanındı.

gibi kararlar alındı.

Verilen bilgilerden hareketle,

- I. İtalya ve Japonya'nın saldırgan bir politika izlemesi Türkiye'nin aleyhine kararlar alınmasına sebep olmuştur.
- II. Boğazlar Komisyonu'nun kaldırılması, Türkiye'nin egemenlik haklarının zedelenmesine neden olmuştur.
- III. Türkiye'nin, Boğazlar üzerindeki egemenlik haklarının sınırlı olması uluslararası bir kuruluşa başvuru yapmasına yönlendirmiştir.

ifadelerinden hangilerine ulaşamaz?

A) Yalnız I

B) I ve II

C) II, III ve IV

D) I, II, III ve IV

9.



Verilen infografikten hareketle;

- I. Türkiye, Yavuz Sultan Selim döneminde kaybedilen Hatay'ı 1939 yılında tekrar anavatanına katmıştır.
- II. Hatay'ın, Türkiye Cumhuriyeti'ne katılmasında kamuoyunun istekleri dikkate alınmayarak Fransa tarafından karar alınmıştır.
- III. Hatay Meselesi, devletler arasında çözülemeyince uluslararası bir örgüte taşınarak çözüme kavuşturulmaya çalışılmıştır.

İfadelerinden hangileri söylenemez?

A) Yalnız I

B) I ve II

C) II ve III

D) I, II ve III

10.



Verilen haritalardan hareketle;

- I. Bazı devletler, sınırlarını güvenli bir hâle getirmek için uluslararası örgütler kurmuşlardır.
- II. Türkiye, hakimiyet sahasını genişletmek için önce Balkan, sonra da Sadabat Paktına üye olmuştur.
- III. Balkan ve Sadabat Paktı ile Ortadoğu ve Balkanlar'da siyasi birlik sağlanarak üye ülkeler arasında askerî birliklik kararı alınmıştır.

İfadelerinden hangileri ulaşılabılır?

A) Yalnız I

B) Yalnız II

C) I ve III

D) I, II ve III

7.



Verilen haritadan hareketle çıkan isyanlarla ilgili aşağıdaki çıkarımlardan hangisi yapılabilir?

- A) Çıkan isyanlar düzenli ordu tarafından bastırılmıştır.
- B) Ülke genelinde farklı gruplar tarafından ortaya çıkmıştır.
- C) Azınlıkların çıkardığı isyanlar amaçlarına ulaşmıştır.
- D) İsyanlar ekonomik sebeplerden dolayı başlatılmıştır.

8. Mustafa Kemal'in Maarif Kongresi'nde yaptığı açılış konuşmasından bir bölüm verilmiştir:

"Çocuklarımızı ve gençlerimizi yetiştirirken yabancı unsurlarla mücadele gereği ve ulusal düşünceleri boğmaya çalışan her katı fikre şiddetle karşı koyma gereği onlara öğretilmelidir. Bağımsız ve mutlu kalmak isteyen her millet için bu özellikler şiddetle gerekmektedir."

Bu sözlerinden hareketle Mustafa Kemal'in Türk eğitim sisteminin;

- I. Millî
- II. Çağdaş
- III. Geleneksel

özelliklerinden hangilerinin üzerinde durduğu söylenebilir?

- A) Yalnız I
- B) I ve III
- C) II ve III
- D) I, II ve III

9.

Ülkeler	Borç Tutarı	Ülkeler	Borç Tutarı
Türkiye	84.597.495	Hicaz	1.449.518
İtalya	234.000	Arnavutluk	1.633.233
Bulgaristan	1.776.654	Yunanistan	11.054.534
Yugoslavya	5.435.597	Suriye-Lübnan	11.108.858
Filistin	3.284.429	Yemen	1.182.104
Irak	6.772.142	Diğer	1.017.626
		TOPLAM	129.605.090

Osmanlı Devleti'nden Kalan Borçların Ülkelere Paylaşımı Tablosu

Tablodaki bilgiler incelendiğinde aşağıdaki değerlendirmelerden hangisi yapılabilir?

- A) Osmanlı borçları farklı ülkeler arasında paylaştırılmıştır.
- B) Borçların geneli Fransa'ya ödenecektir.
- C) Osmanlı borçları bütün devletlere eşit şekilde paylaştırılmıştır.
- D) Türkiye en çok alacaklı ülke konumunda bulunmaktadır.

10.

1

Afgan Kralı Amanullah Han:

"O büyük insan yalnız Türkiye için değil, bütün Doğu milletleri için de en büyük liderdi."

2

İngiltere Büyük Elçisi Sir Percy Loraine:

"Görüşü o kadar keskin ve sıhhatli idi ki olayların gidişi, halkın duyguları ve Türkiye'nin dış ilişkilerle ilgili ihtiyacı hakkındaki sezgileri sürekli doğru çıkardı."

3

İngiltere Başbakanı Lloyd George:

"Arkadaşlar, yüzyıllar nadir olarak bu şekilde bir dâhi yetiştirir. Şu talihsizliğimize bakın ki o büyük dâhi Türk milletine nasip oldu."

Atatürk'ün ölümü üzerine söylenen sözler onun kişilik özellikleri ile eşleştirildiğinde hangisi dışarıda kalır?

A) İleri görüşlülük

B) Açık sözlülük

C) Dahilik

D) Evrensellik

1.



Mustafa Kemal, Fransa'da düzenlenen Picardie Manevralarına Osmanlı Devleti'ni temsilen katıldı. Düzenlenen tatbikatı takip eden Mustafa Kemal "Uçaklar gelecekte savaşlarda etkili rol oynayacaktır" diyerek askerî havacılığın önemini vurgulamıştır. Picardie Manevralarından kısa bir süre sonra meydana gelen I. Dünya Savaşı'nda ise uçaklar aktif rol oynamıştır.

Bu metinde Mustafa Kemal'in kişilik özelliklerinden hangisine vurgu yapılmıştır?

A) Vatanseverlik

B) Teşkilatçılık

C) İleri görüşlülük

D) Çok yönlülük

2.



Verilen harita incelendiğinde;

- I. Savaşa sonradan dahil olan devletler vardır.
- II. Savaş sırasında taraf değiştiren devlet olmuştur.
- III. Savaş başında tarafsız devletler bulunmaktadır.

İfadelerinden hangilerine ulaşılabilir?

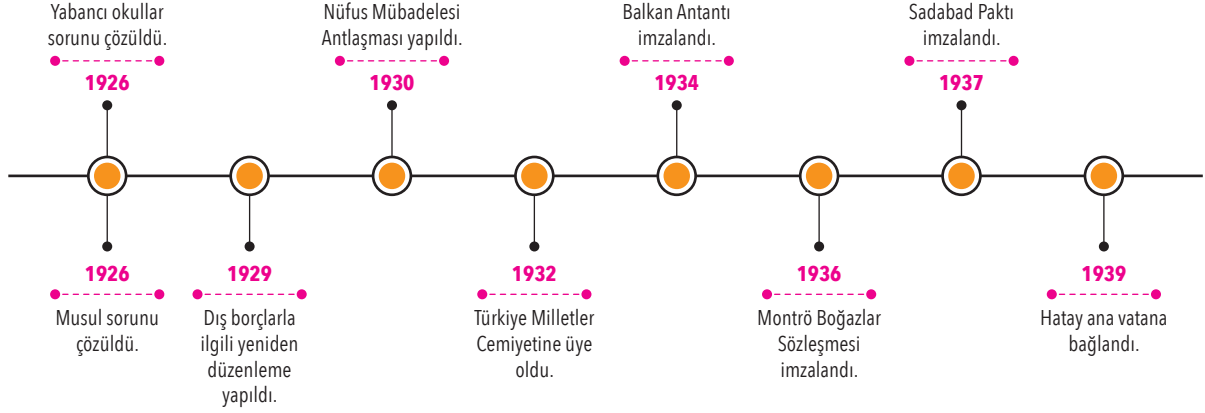
A) I ve II

B) I ve III

C) II ve III

D) I, II ve III

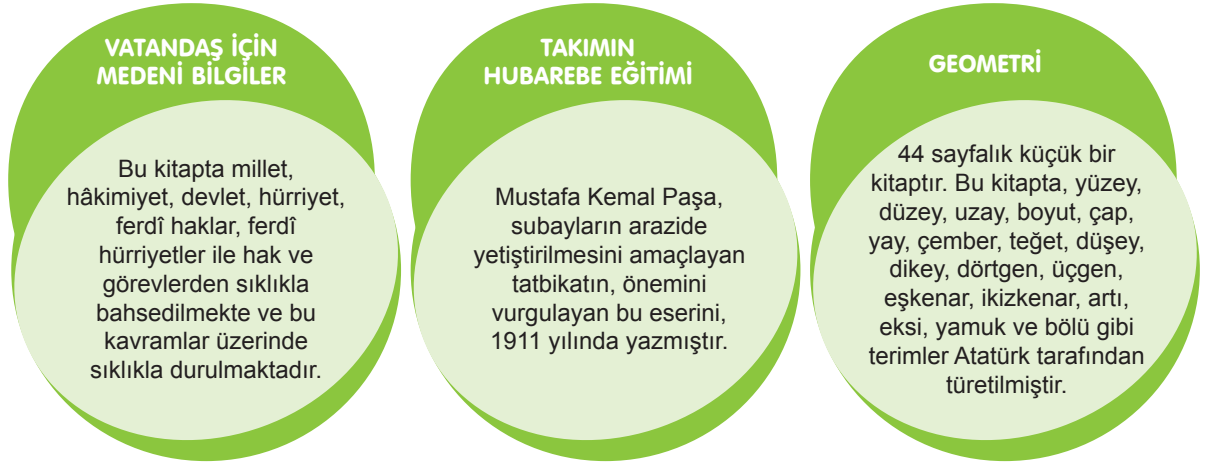
9.

Türk Dış Politikasında Yaşanan Bazı Gelişmeler

Tablodaki bilgilerden hareketle Türkiye ile ilgili aşağıdaki ifadelerden hangisi söylenemez?

- A) Sınırlarında değişiklik olmuştur. B) Ulusal açıdan tüm sorunları çözülmüştür.
C) Farklı uluslararası teşkilatlara katılmıştır. D) Ekonomik ve siyasi iş birliklerinde yer almıştır.

10.



Mustafa Kemal'in yazdığı eserler hakkında verilenler incelendiğinde aşağıdaki ifadelerden hangisi söylenemez?

- A) Çok yönlü bir kişiliğe sahiptir. B) Farklı alanlarda eserler ortaya koymuştur.
C) Düşüncelerini kitlelere ulaştırmayı hedeflemiştir. D) Millî Mücadele dönemi hakkında eserler yazmıştır.