



VIDEO
ÇÖZÜMLÜ



LGS TARZI

3

GENEL
DENEME

RETRO

TARZINI YANSITI

5.

**Haritalar incelendiğinde,**

- I. Lozan Antlaşması ile Türkiye'nin günümüzdeki sınırları kesin olarak çizilmiştir.
- II. Sevr Antlaşması'na göre Anadolu'nun büyük kısmı işgal altında kalmıştır.
- III. Lozan Antlaşması ile Boğazların hakimiyeti Türkiye'ye ait olmuştur.

yorumlarından hangileri yapılamaz?

A) Yalnız I

B) I ve II

C) I ve III

D) II ve III

6. Hatt-ı müdafaa yoktur, sath-ı müdafaa vardır. O sath, bütün vatandır. Vatanın her karış toprağı vatan-
daşın kanıyla ıslanmadıkça terk edilemez. Küçük
büyük her birlik bulunduğu mevziden atılabilir. Fa-
kat her birlik ilk durabildiği noktada tekrar düşmana
karşı cephe teşkil edip muharebeye devam eder.
Yanıdakiin çekildiğini gören birlikler, ona tabi ola-
maz. Bulduğu mevzide sonuna kadar dayanma-
ya mecburdur.

Mustafa Kemal'in bu sözlerinden hareketle;

- I. Düşmana karşı kararlı bir mücadelenin gerçek-
leştirilmek istendiği
- II. Tam bağımsızlığın gerçekleştirilmesinin hedef-
lendiği
- III. Vatan savunması için fedakârca mücadele edil-
mesinin amaçlandığı

durumlarından hangileri söylenebilir?

A) I ve II

B) I ve III

C) II ve III

D) I, II ve III

7. "Tek partili bir mecliste, özellikle o parti, olaylar ve
olup bitenlerin ulaştırdığı bir başkanın kurduğu
kuruluş olunca, o kuruluşa dayanan hükümeti so-
rumluluk esasına dayanan ciddi bir denetleme im-
kansız olur... Hükümeti ve hükümet adamlarını ha-
tadan ve bu hatalar yüzünden devleti zararlardan
korumak için bir muhalif partiye gereksinim açıktır.
Başladığımız devrimi tamamlayalım."

Mustafa Kemal bu sözlerinde;

- I. Çok partili yönetime geçilmesini hedeflediği,
- II. Farklı fikirlerin mecliste temsil edilmesini istediği,
- III. İktidar partisinin muhalefet tarafından denetlen-
mesini amaçladığı

durumlarından hangilerini vurgulamıştır?

A) I ve II

B) I ve III

C) II ve III

D) I, II ve III

3. Four friends went to a concert together. Here are their comments about the concert;

Penny : It was my favourite band's concert. I had so much fun. Their songs are amazing.

Ted : I think it was too loud. I couldn't understand what they said. It was not a good concert for me.

Wendy : It was too crowded. I was not comfortable while listening to the band.

Julie : I never want to listen to that band again. Their voice was so terrible. I have a headache right now.

According to the comments, who enjoyed the concert?

A) Penny

B) Ted

C) Wendy

D) Julie

4. Read the text and answer the question.

Hello, I'm Adam. I am a student at 8th grade. I use different communication ways to keep in touch with my friends and family members. I usually send text messages to my friends. I make video chats with my relatives every evening and sometimes talk to them on the phone. I have a pen friend living abroad and I send a letter to her every month.

Which of the following communication ways is NOT mentioned in the text above?

A)




B)



C)



D)



5. Read the conversation and answer the question.

Pam: What do you do when you are online, Jim?

Jim: I usually watch some series or movies. I sometimes listen to music and search for some information about my school subjects. I rarely read online news.

Which of the following shows what Jim does the least on the Net?

A)



B)



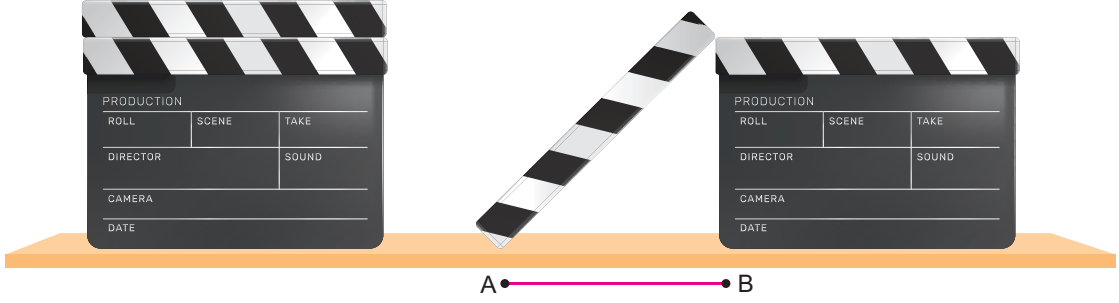
C)



D)



15. Bir yüzünün alanı 81 santimetrekare olan kare şeklindeki sinema çekim tahtasının üst parçası yatay düz bir zeminde aşağıdaki gibi diğer parça ile köşeleri çakışacak şekilde konmuştur.



Açıldıktan sonra oluşan iki dikdörtgenel parçadan büyük olanın bir yüzünün alanı $36\sqrt{2}$ santimetrekare olduğuna göre A ile B noktaları arasındaki mesafe kaç santimetredir?

- A) 7 B) $6\sqrt{3}$ C) 12 D) $8\sqrt{2}$

16. 9 adet sarı ve 6 adet mavi renkli özdeş bilyelerin tamamı A ve B torbalarına her iki torbada da en az birer adet farklı renkte bilye olacak şekilde atılmıştır.



A torbasına atılan sarı renkli bilye sayısı, B torbasına atılan sarı renkli bilye sayısından fazla olup A ve B torbalarından rastgele çekilen bir bilyenin mavi renkli olma olasılıkları ise birbirine eşittir.

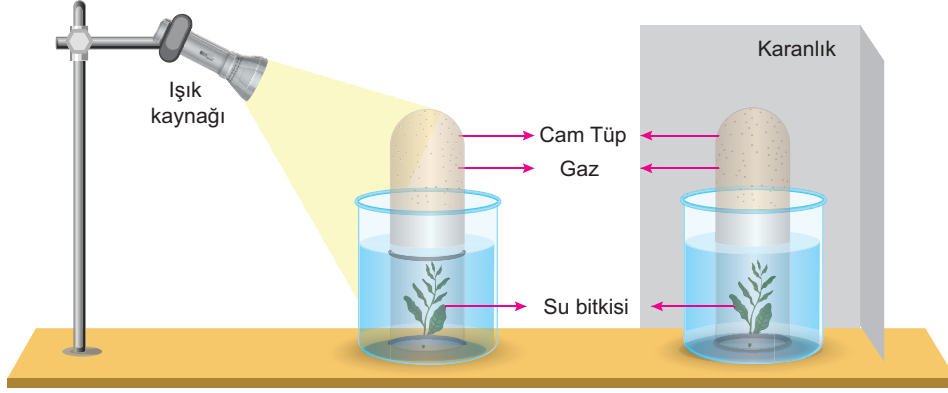
Buna göre başlangıçta B torbasına atılan toplam bilye sayısı kaçtır?

- A) 5 B) 6 C) 7 D) 8

15. Bir bilim insanı su bitkileri üzerinde aşağıdaki araştırmayı yapıyor.

Araştırma Konusu: Su bitkilerinin karanlık ve aydınlık ortamdaki yaşamsal faaliyetleri.

Bilim insanı, araştırma konusu için özdeş bitkilerden oluşan aşağıdaki düzenekleri hazırlıyor.



Düzeneklerde oluşan gazları analiz ettiğinde birbirinden farklı özellikte olduklarını fark ediyor.

Buna göre bilim insanının araştırması ile ilgili aşağıdaki çıkarımlardan hangisi doğrudur?

- A) Bitkilerin fotosentez yapması sonucu farklı özellikte gazlar ortaya çıkar.
- B) Su bitkilerinde ışığın etkisi ile farklı yaşamsal olaylar gerçekleşir.
- C) Denizin derinliklerinde yaşayan bitkiler ışığa ulaşmadan yaşamlarını devam ettirirler.
- D) Canlıların yaşamsal faaliyetleri için en önemli etken ışıktır.

16. Verilen maddelere aşağıdaki işlemler ayrı ayrı sırayla uygulanıyor.



1. İşlem	2. İşlem	3. İşlem
Kesiliyor.	Ateşte bekletiliyor.	Buzluğa koyuluyor.

Yapılan işlemlerle ilgili aşağıdakilerden hangisi yanlıştır?

- A) Çiğ etin bir işlemde tanecik yapısı değişmiştir.
- B) Kâğıt bir fiziksel iki kimyasal değişim geçirmiştir.
- C) 1. işlemde hiçbir maddenin tanecik yapısı değişmemiştir.
- D) Tüm maddeler en az bir defa fiziksel değişim geçirmiştir.

7. Look at the poster and answer the question.

ARE YOU READY FOR AN EXCITING WEEKEND?
If you are an adrenaline seeker, we would like to see you with us.

On Saturday
 Scuba diving
 Surfing
 Jeep Safari

On Sunday
 Rock Climbing
 Bungee jumping
 Hang-gliding

£50
 PER PERSON

On July 5 – 6.
 In Moors Valley Country Park and Forest

Which of the following DOES NOT have an answer?

- A) When and where is the camp?
 B) How much does it cost to attend the camp?
 C) How do the attendees get to the camping place?
 D) Which extreme sports are they offering?

8. The table below is about what responsibilities Richard has at home:

On Monday	On Wednesday	On Friday	On Saturday	On Sunday
<ul style="list-style-type: none"> ▶ Taking care of his little sister ▶ Sweeping the leaves 	<ul style="list-style-type: none"> ▶ Watering the plants ▶ Going grocery shopping 	<ul style="list-style-type: none"> ▶ Hanging out the clothes ▶ Ironing 	<ul style="list-style-type: none"> ▶ Taking out the trash ▶ Cleaning his room 	<ul style="list-style-type: none"> ▶ Dusting the shelves ▶ Mopping the floor

Which of the following is NOT any of the chores Richard must do at the weekend?



15.



1911
Tam adı Mehmet Rıfat Ilgaz olan usta yazar, 7 Mayıs'ta Kastamonu'da dünyaya geldi.

1930
Muallim Mektebinden mezun oldu.

1936
İlk şiiri "Sevgilimin Mezarında"yı kaleme aldı. Gazi Eğitim Enstitüsünde edebiyat eğitimi aldı. İlkokul, ortaokul ve lisede öğretmenlik yaptı.

1943
"Yarenlik" adlı ilk şiir kitabı yayımlandı.

1944-1947
"Sınıf" adlı şiir kitabından dolayı 6 ay hapis cezası aldı.

1959
"Hababam Sınıfı" adlı romanı yayımlandı.

1975
Hababam Sınıfı, Ertem Eğitilmiz tarafından beyaz perdeye aktarıldı.

1982
"Madaralı Roman Ödülü" ve "Orhan Kemal Roman Ödülü"nü aldı.

1993
7 Temmuz'da İstanbul'da vefat etti.

Rıfat Ilgaz

Bu görselden hareketle Rıfat Ilgaz ile ilgili aşağıdakilerden hangisi söylenemez?

- A) Farklı türlerde eserler kaleme almıştır.
B) Çeşitli adlarda ödülleri bulunmaktadır.
C) Birçok eğitim kademesinde öğretmenlik yapmıştır.
D) Tiyatroya uyarlanan eseri vardır.

16.

Cümleler	Yüklemin Türüne Göre Cümleler		Yüklemin Yerine Göre Cümleler	
	İsim	Fil	Kurallı	Devrik
I. Hasta ziyareti, gençler için en güzel erdemlerdendir.	X		X	
II. Zavallı çocuk, çamurlu yolda düşse kalka ilerliyordu.		X	X	
III. Kardeşim akşam yemeği için masaya geldi dersi bitince.		X	X	
IV. Geç saatlere kadar okuldaydı Hülya ve Tuğba.	X			X

Bu tablodaki numaralanmış cümlelerden hangisiyle ilgili bir yanlışlık yapılmıştır?

- A) I B) II C) III D) IV

5. Tekalif-i Milliye Emirleri'nin uygulanışını gösteren görsellerden bazıları aşağıda verilmiştir:



Bu görseller birlikte değerlendirildiğinde Türk halkı ile ilgili aşağıdaki ifadelerden hangisi söylenemez?

- A) Birlik beraberlik içerisinde mücadele verdiği
B) Sadece bölgesel direnişin gerçekleşmesini hedeflediği
C) Topyekûn bir şekilde hareket ettiği
D) Farklı kesimleri tarafından destek verdiği
6. Dünya uygarlık ailesinde saygın yer sahibi olmaya layık Türk milleti, evlatlarına vereceği eğitimi okul ve medrese adında birbirinden büsbütün başka iki cins kuruma bölmeye katlanabilir miydi? Eğitim ve öğretimde birlik olmadıkça aynı fikirde, aynı düşünüş biçiminde bireylerden oluşmuş bir millet yapmaya imkân aramak boş şeylerle uğraşmak olmaz mıydı?

Mustafa Kemal ATATÜRK

Mustafa Kemal'in bu sözleri doğrultusunda aşağıdaki inkılaplardan hangisinin gerçekleştiği söylenebilir?

- A) Tevhid-i Tedrisat Kanunu'nun İlanı
B) Türk Dil Kurumu'nun açılması
C) Türk Medeni Kanunu'nun İlanı
D) Saltanatın kaldırılması

- 7.



Verilen görseller;

- I. Kılık kıyafet kanunu
II. Harf inkılabı
III. Soyadı kanunu

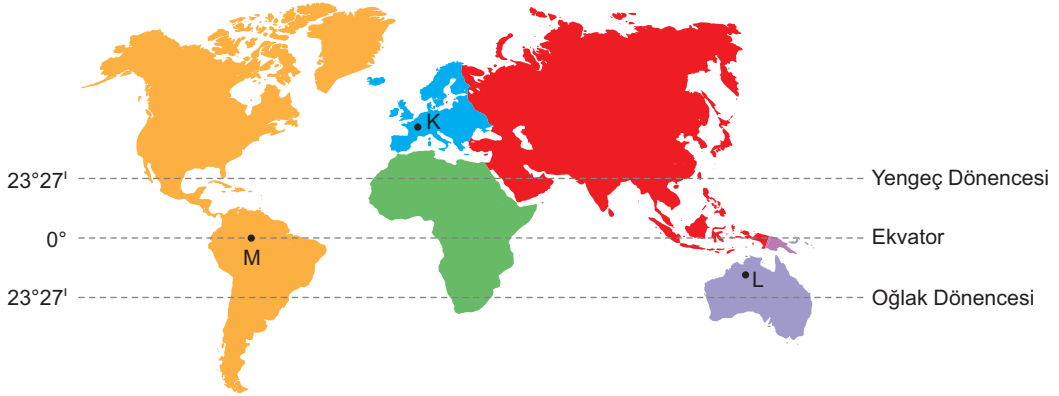
inkılaplarından hangileri ile bağdaştırılabilir?

- A) Yalnız II
B) I ve II
C) I ve III
D) II ve III

FEN BİLİMLERİ

- Bu testte 20 soru vardır.
- Cevaplarınız, cevap kâğıdına işaretleyiniz.

- Eş yükseltili bazı noktaların dünya haritası üzerindeki konumları aşağıdaki gibidir.

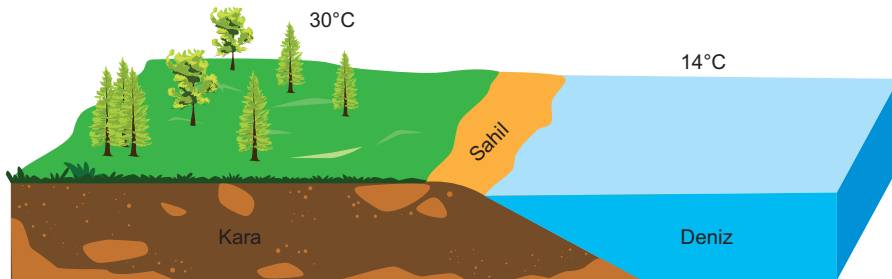


Bu noktalar arasında aşağıdaki seyahatler gerçekleştiriliyor.

1. seyahat	23 Eylül günü K'den L'ye
2. seyahat	21 Haziran günü M'den L'ye
3. seyahat	21 Aralık günü K'den M'ye

Buna göre hangi seyahatlerde bir önceki kalınan yere göre gündüz süreleri uzar?

- A) 1
B) 3
C) 1 ve 3
D) 2 ve 3
- Yüksek basınca sahip karalardan, alçak basınca sahip denize doğru esen rüzgâra kara meltemi denir. Bir sahildeki kara ve deniz sıcaklığı aşağıdaki görselde verilmiştir.



Kara ve deniz sıcaklığının böyle olduğu anda sahilde ölçüm yapan bir meteorolog aşağıdaki durumlardan hangisini gözlemleyemez?

- A) Ağaç yapraklarının kara tarafına doğru sallandığını
B) Kara kısmının alçak basınç etkisinde olduğunu
C) Deniz tarafından esinti geldiğini
D) Kara meltemi oluştuğunu